



第三单元测试卷

【测试内容:】



数学 (JJ) 三年级 (上)

时间: 60 分钟

满分: 100 分

题号	一	二	三	四	五	六	七	八	九	十	总分
得分											



轻松练基础

一、下面哪些图形是对称的? 在下面的 () 里画“√”, 不是的画“×”。

(10 分)



()



()



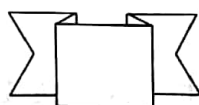
()



()



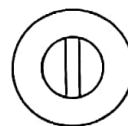
()



()



()



()

二、填空题。(12 分)

- 如果把一个图形沿着 () 对折, () 的图形能够 (), 这个图形就是 () 图形, () 叫做对称轴。
- 正方形、长方形、圆都是 () 图形。



3. 五角星() (填“是”或“不是”)轴对称图形。

4. 蜻蜓左右两边(), 所以蜻蜓是()。

5. 剪纸的方法是先()纸, 再在折好的一侧画(), 最后再用剪刀剪, 展开后就得到一张()的剪纸。

三、我是公开的小法官。(对的打“√”, 错的打“×”)(10 分)

1. 所有的图形都有一条对称轴。 ()

2. 物体和它在水里的倒影是对称的。 ()

3. 一个图形不可能有两条对称轴。 ()

4. 人体是对称的。 ()

5. 镜子外的人举起左手, 镜子里的人像也一定举起左手。 ()

四、这些现象哪些是“平移”现象? 哪些是“旋转”现象? 填一填。(10 分)

1. 张叔叔在笔直的公路上开车, 方向盘的运动是()现象。

2. 妈妈用拖布擦地, 是()现象。

3. 自行车的车轮转了一圈又一圈是()现象。

4. 电梯的上下运动是()现象。

5. 时钟的时针、分针、秒针的运动是()现象。

五、判断下列现象是平移, 哪些现象是旋转? (6 分)



()



()



()



()



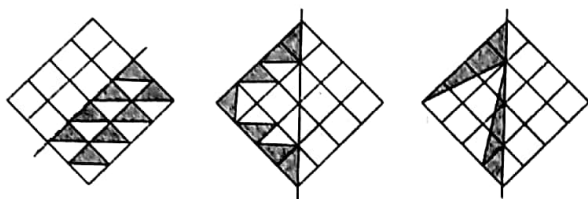
()



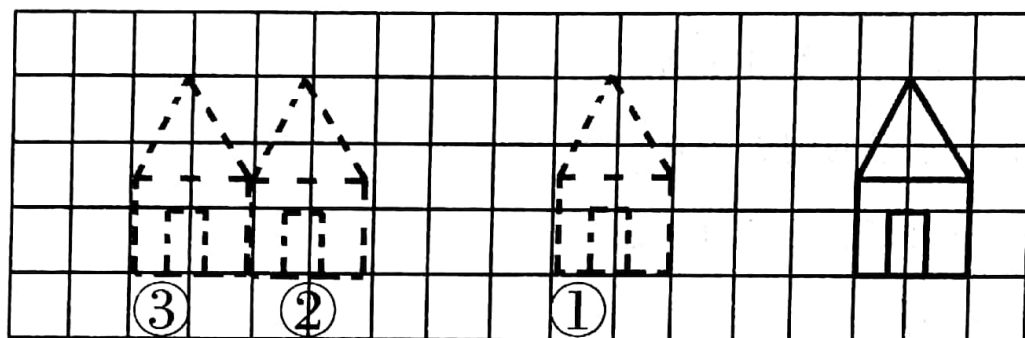
()



六、在方格纸上涂出轴对称图形的另一半。(9 分)



七、把向左平移 10 格得到的小房子涂上自己喜欢的颜色。(10 分)



八、把你认为能拼成轴对称图形的两部分连起来。(10 分)




快乐提能力

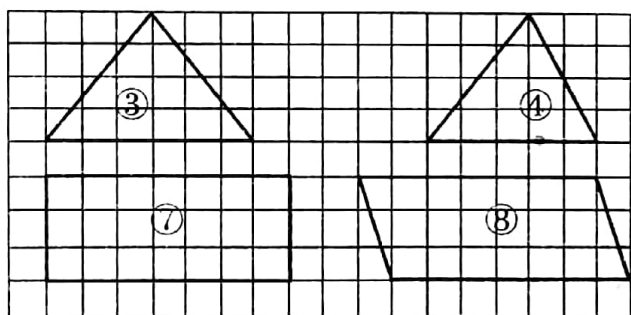
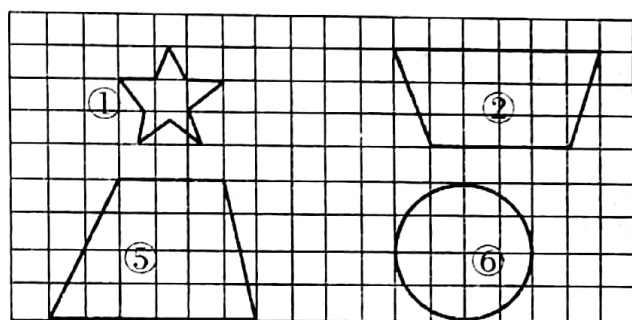
九、涂一涂,画一画。(10 分)

树上哪个苹果通过平移能与地上的苹果重合,请涂上红色。





十、下面的图形,哪些是轴对称图形? 画出它们的一条对称轴。(13 分)



1. 上面的图形中是轴对称图形的有()号、()号、()号、
()号和()号。

2. 1 号图形有()条对称轴,3 号图形有()条对称轴,有无数条
对称轴的是()号图形。

